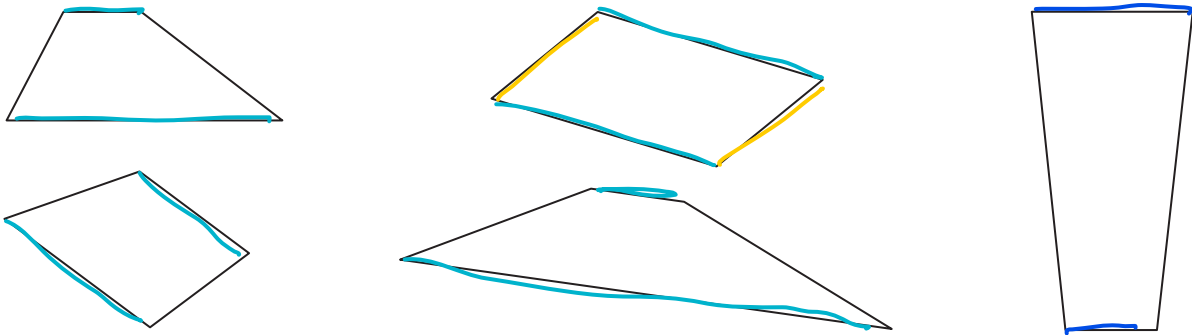
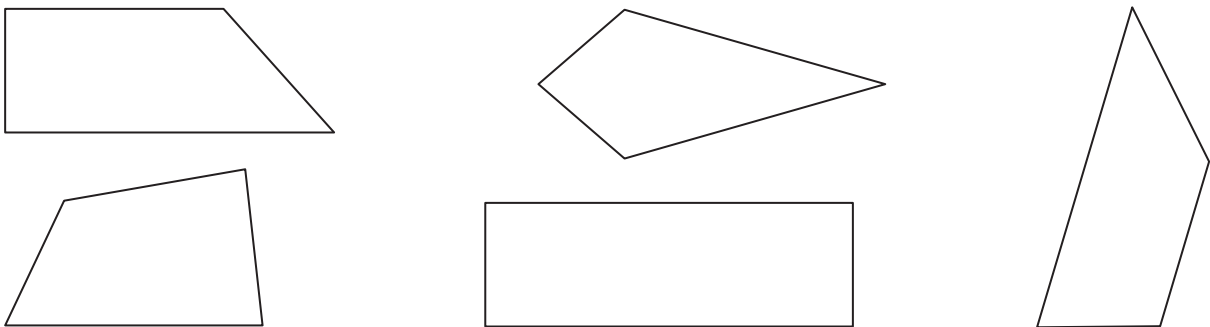


II.9 Trapezy

- 1 Każdy z rysunków przedstawia trapez. Zaznacz równoległe boki każdego trapezu na niebiesko. Jeśli dwa pozostałe boki także są równoległe, zaznacz je na żółto.



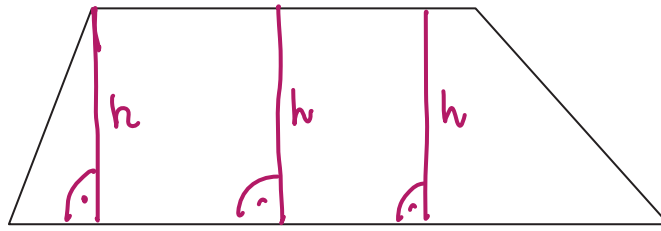
- 2 Które figury są trapezami? Pomaluj je na niebiesko.



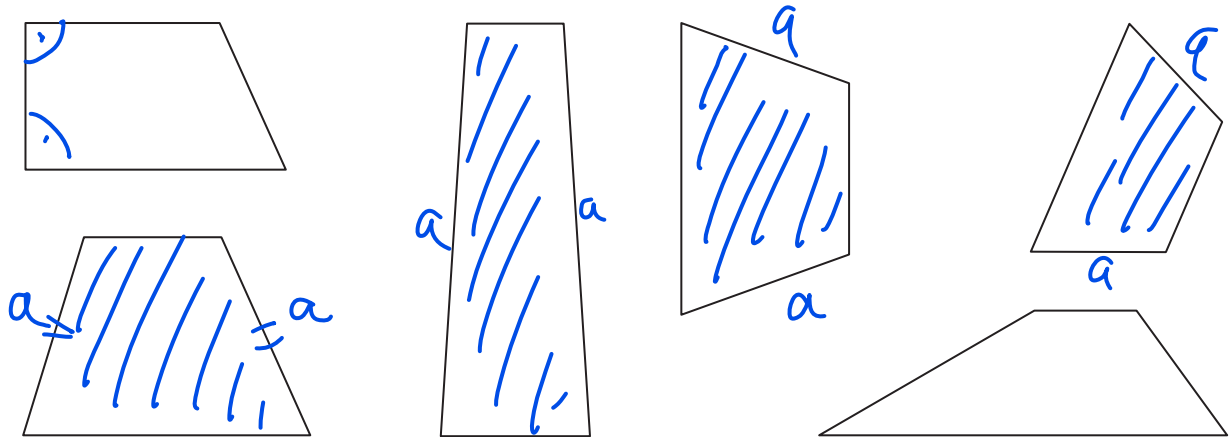
- 3 Dokończ rysunki trapezów.



4 Narysuj wysokość trapezu.



5 Które z trapezów są równoramienne? Sprawdź to za pomocą cyrkla lub linijki. Pomaluj wszystkie trapezy równoramienne na niebiesko.



6 Które z trapezów są prostokątne? Sprawdź to za pomocą ekierki. Pomaluj trapezy prostokątne na zielono.

