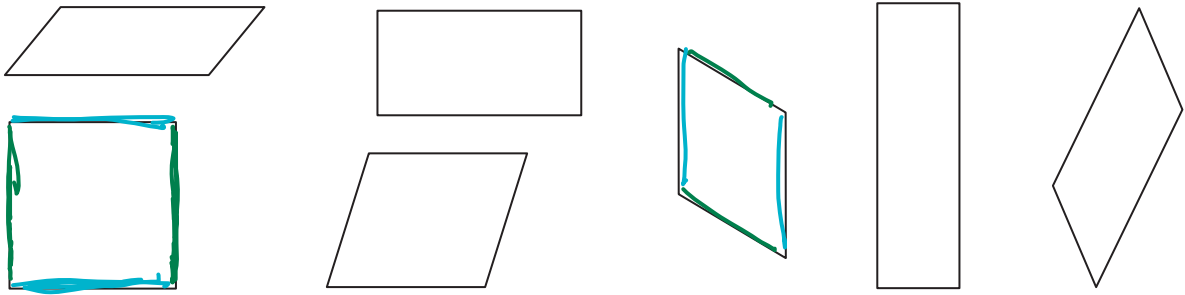
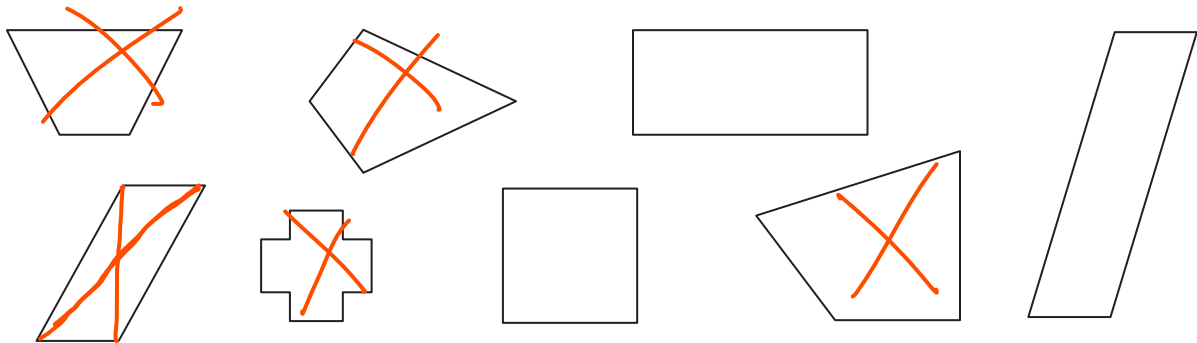


II.7 Równoległoboki

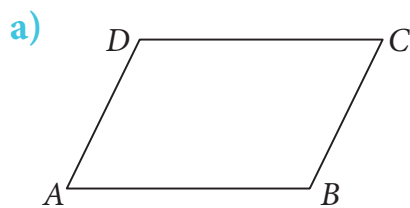
- 1 W każdym z siedmiu równoległoboków zaznacz jedną parę boków równoległych na niebiesko, a drugą na zielono.



- 2 Pomaluj równoległoboki na zielono. Narysuj ich przekątne.

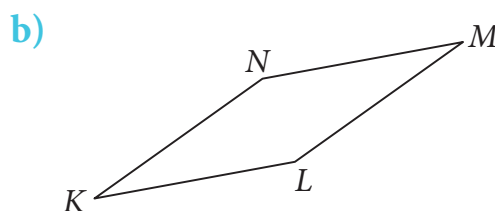


- 3 Zaznacz tym samym kolorem równoległe boki równoległoboku. Uzupełnij podpisy.

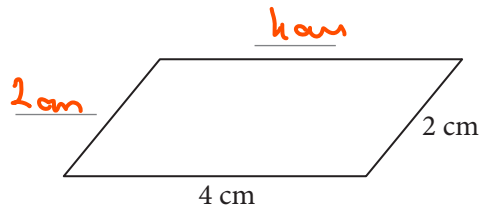


AB || CD

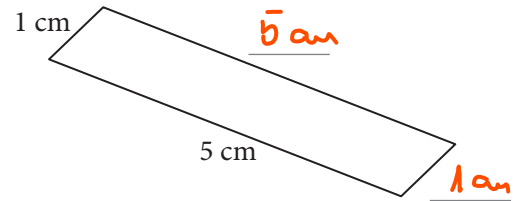
AD ||



4 Zapisz pozostałe długości boków równoległoboków. Oblicz ich obwody.



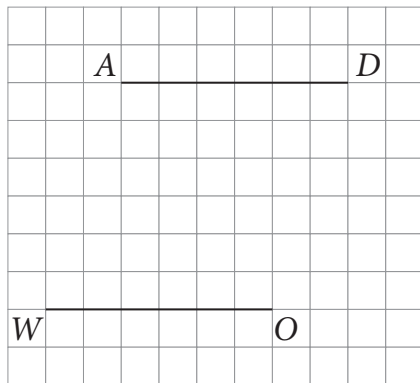
Obwód = 12 cm



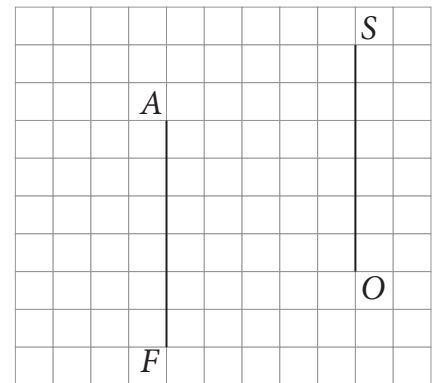
Obwód = 12 cm

5 Dokończ rysunki:

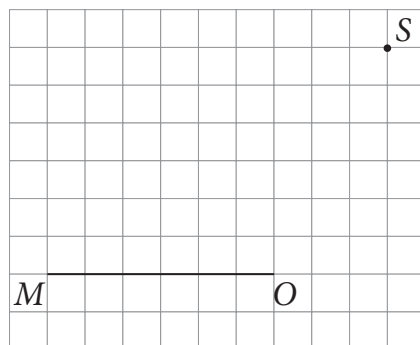
a) równoległoboku WODA,



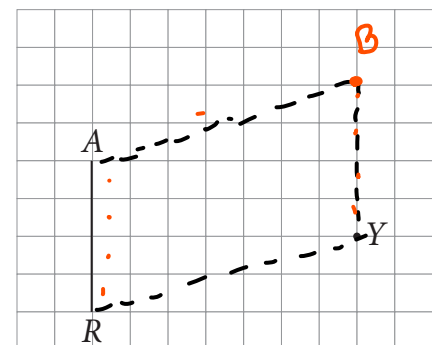
c) równoległoboku FOSA,



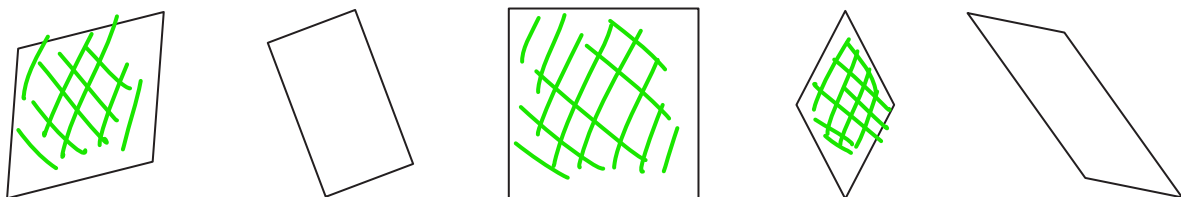
b) równoległoboku MOST,



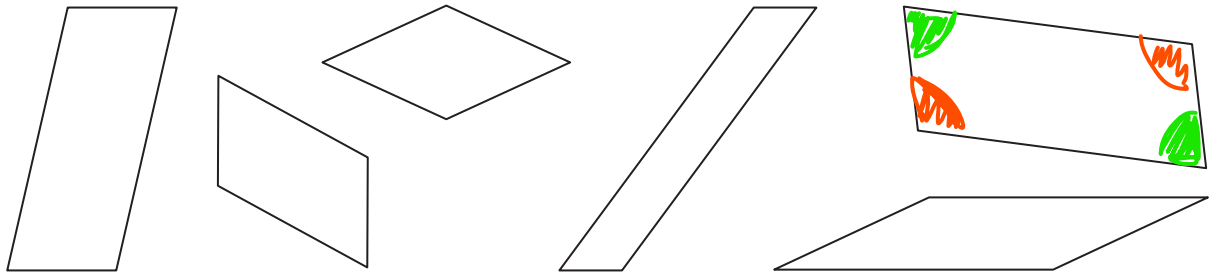
d) równoległoboku RYBA.



6 Na rysunku widzisz różne równoległoboki. Sprawdź za pomocą cyrkla lub linijki, które z nich są rombami. Pomaluj romby na zielono.



7 W każdym równoległoboku zaznacz tym samym kolorem równe kąty.



8 Oblicz i wpisz brakujące miary kątów równoległoboków.

