



II.10 Klasyfikacja czworokątów

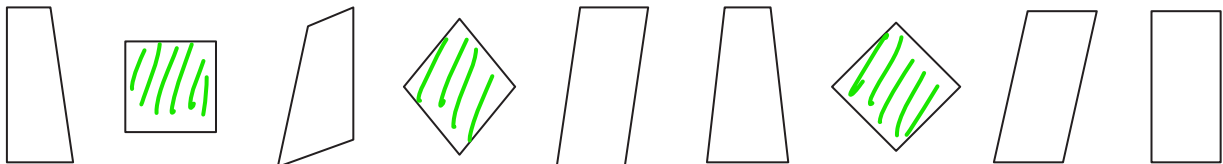
1 a) Na rysunku są dwa kwadraty. Pomaluj je na niebiesko.



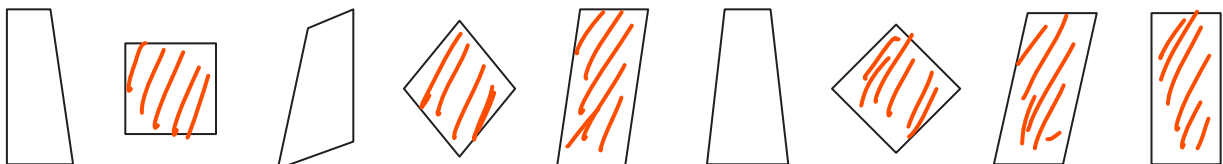
b) Na rysunku są trzy prostokąty. Pomaluj je na fioletowo.




c) Na rysunku są trzy romby. Pomaluj je na zielono.



d) Na rysunku jest sześć równoległoboków. Pomaluj je na pomarańczowo.



e) Na rysunku jest dziewięć trapezów. Pomaluj je na żółto.



2 Wytnij z wkładki figury geometryczne. Wklej je w odpowiednie miejsca.

