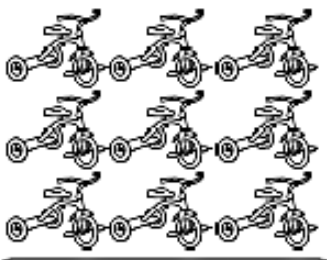









<p>1. Ile razem kół ma 9 trójkołowych rowerów?</p>  <p><input type="text"/></p>	<p>2. 24 osoby jadą na lotnisko taksówkami. W każdej taksówce są 4 osoby. Ile jest taksówek?</p>  <p><input type="text"/></p>	<p>3. Hanan jest zapaloną łuczniczką. Pewnego dnia wystrzeliła 5 strzał i każda z nich trafiła w 8. Ile razem punktów uzyskała?</p>  <p><input type="text"/></p>
<p>4. Trzech sędziów przyznało razem 27 punktów. Każdy z nich dał taką samą liczbę punktów. Ile punktów dał każdy z sędziów?</p>  <p><input type="text"/></p>	<p>5. Bilet do kina kosztuje 8£. Sześć osób wybiera się, aby zobaczyć film. Ile razem zapłacą za bilety?</p>  <p><input type="text"/></p>	<p>6. Lemoniada sprzedawana jest w zgrzewkach po 4 puszek. Cherie potrzebuje 36 puszek na przyjęcie. Ile zgrzewek musi kupić?</p>  <p><input type="text"/></p>
<p>7. Trish, Karen i Layla podzieliły się po równo orzeszkami. W paczce jest 21 orzeszków. Ile orzeszków dostanie każda z nich?</p>  <p><input type="text"/></p>	<p>8. Maszyna pakuje 8 kawałków mango do jednego opakowania. Maszyna pakuje 88 kawałków w ciągu 1 minuty. Ile opakowań jest zapelnianych w ciągu jednej minuty?</p> <p><input type="text"/></p>	<p>9. Stolarz robi stoły. Jedne z nich mają 3 nogi, a inne 4. Planuje zrobić 5 stołów z 3 nogami i 4 stoły z 4 nogami. W sumie ile nóg będzie potrzebował?</p>  <p><input type="text"/></p>