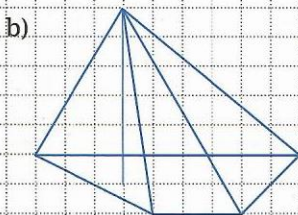
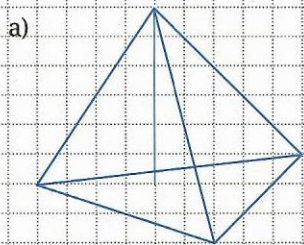
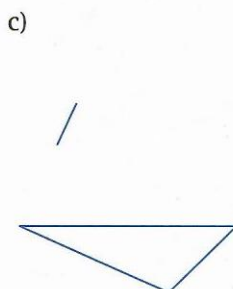
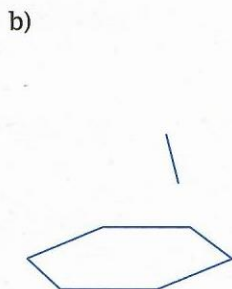
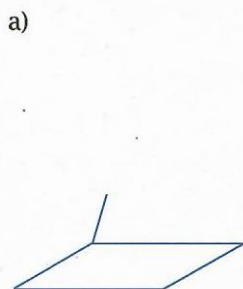



1. Sporządź kopię rysunku ostrosłupa:




2. Rysunek przedstawia podstawę pewnego ostrosłupa prawidłowego oraz fragment jego krawędzi bocznej. Wyznacz spodek wysokości tego ostrosłupa i dokończ rysunek.



3. Na rysunku zaznaczono jedną krawędź podstawy ostrosłupa i jego wierzchołek. Dokończ rysunek.



ostrosłup trójkątny



ostrosłup czworokątny



ostrosłup pięciokątny