



KARTA PRACY UCZNIĄ


1. Jest wiele rodzajów termometrów. Narysuj je w ich naturalnym otoczeniu i wyjaśnij ustnie, do czego dokładnie każdy z nich służy.




termometr zaokienny



termometr pokojowy



termometr lekarski



termometr kąpielowy

2. Zapisz wskazywaną temperaturę. Otocz czerwoną pętlą ten termometr, który wskazuje najwyższą, a niebieską ten, który najniższą.

